



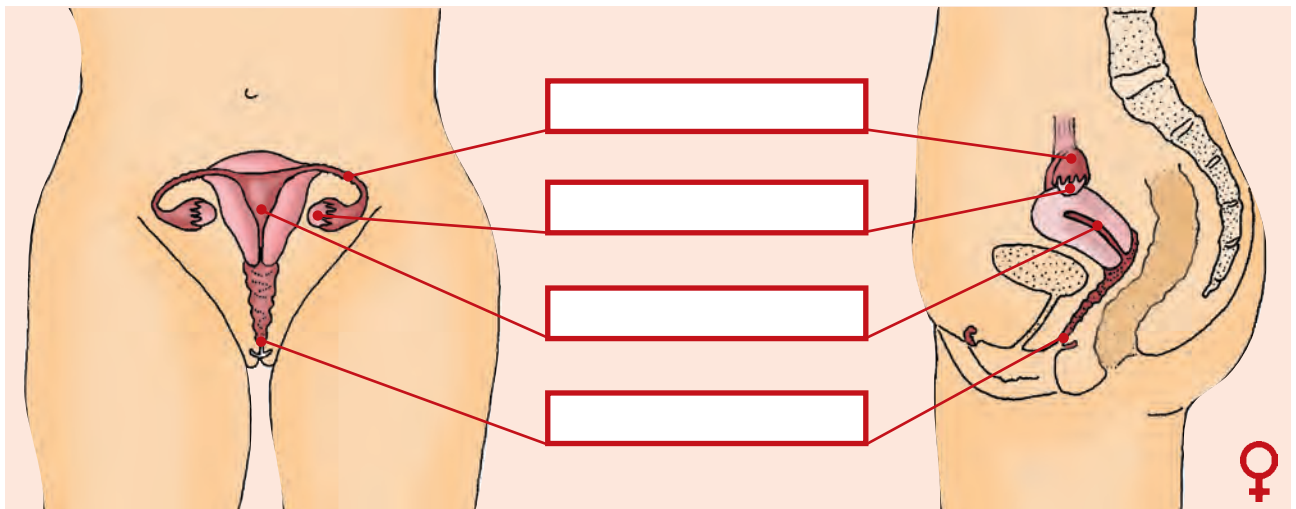
## ΦΕ1: Η ΑΡΧΗ ΤΗΣ ΖΩΗΣ

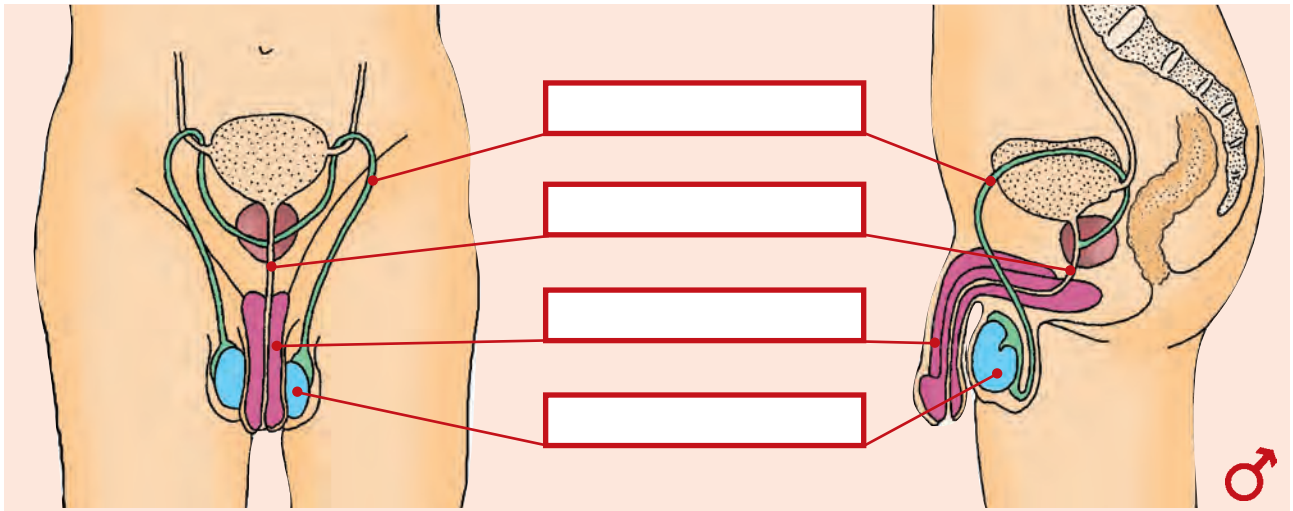


Γνωρίζεις την απάντηση που θέλει να δώσει ο Αστεριξ;

Όλα ξεκινούν από ένα ωάριο της μητέρας και ένα σπερματοζωάριο του πατέρα. Από πού προέρχονται όμως το ωάριο και το σπερματοζωάριο; Στις εικόνες μπορείς να παρατηρήσεις τα όργανα του αναπαραγωγικού μας συστήματος. Συζήτησε με τη δασκάλα ή τον δάσκαλό σου για τη λειτουργία καθενός από αυτά και σημείωσε στα κουτάκια τις ονομασίες των οργάνων.

Στη συνέχεια σημείωσε με συντομία στον πίνακα τη λειτουργία κάθε οργάνου.





ΟΡΓΑΝΟ	ΛΕΙΤΟΥΡΓΙΑ










**ΕΡΓΑΣΙΕΣ ΓΙΑ ΤΟ ΣΠΙΤΙ**

1. Περιγράψε με λίγα λόγια την πορεία του γονιμοποιημένου ωαρίου μέχρι τη στιγμή που φωλιάζει στη μήτρα και σημείωσε μ' ένα βέλος την πορεία αυτή.

---

---

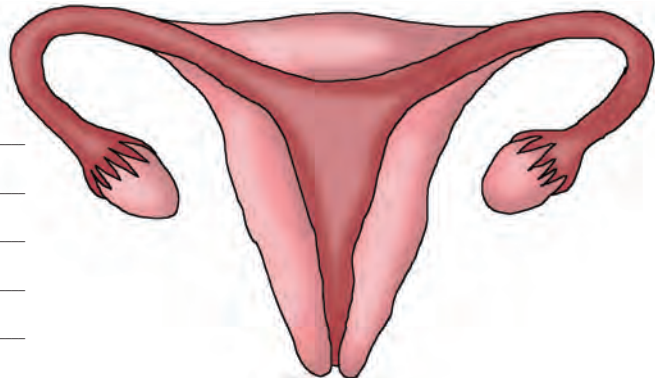
---

---

---

---

---



2. Σε ποιο όργανο παράγονται τα σπερματοζώαρια; Σε ποιο όργανο ωριμάζουν τα ωάρια;

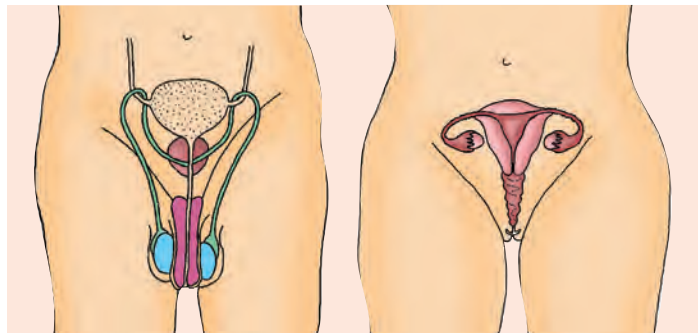
---

---

---

---

---



3. Λύσε το σταυρόλεξο.

1. Εκεί ωριμάζουν τα ωάρια.
2. Παράγουν τα σπερματοζώαρια.
3. Το γονιμοποιημένο ωάριο περνάει μέσα από τη ... και κατευθύνεται προς τη μήτρα.
4. Ο σωλήνας από τον οποίο διέρχονται τα ούρα.
5. Περιέχει τα σπερματοζώαρια.
6. Μεταφέρει τα σπερματοζώαρια στον κόλπο της γυναίκας.

