

Η διαίρεση στους δεκαδικούς αριθμούς

1η Άσκηση

Να συμπληρώσεις τον πίνακα:

	: 0,1	: 0,01	: 0,001	: 10	: 100	: 1000
6						
30						
400						
72,5						
800,35						
10,005						


2η Άσκηση

Να κάνεις εκτίμηση των αποτελεσμάτων και μετά να υπολογίσεις κάθετα τα πηλίκα:

18:20	12:8	3,6:5	12,6:15
εκτιμώ:	εκτιμώ:	εκτιμώ:	εκτιμώ:

3η Άσκηση

Να βρεις το πηλίκο $2,4 : 0,6$ με τη βοήθεια του διπλανού μοντέλου αναπαράστασης:




4η Άσκηση

Να υπολογίσεις το πηλίκο $6,08 : 1,28$ με δυο διαφορετικούς τρόπους:

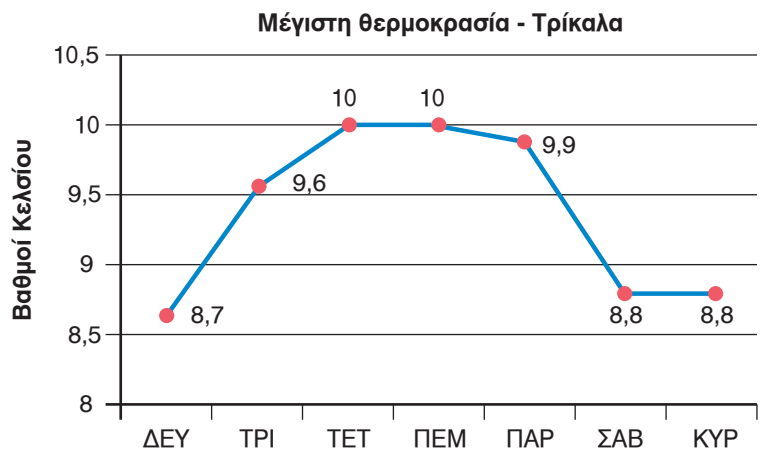
1ο Πρόβλημα

Η μητέρα της Αγγελικής στη λαϊκή αγορά πλήρωσε 1,8 € για μία δωδεκάδα αβγών. Πόσο κόστιζε το ένα αβγό;



2ο Πρόβλημα

Να υπολογίσεις τον μέσο όρο των μέγιστων θερμοκρασιών που σημειώθηκαν στα Τρίκαλα την πρώτη εβδομάδα του Μαρτίου.



Διερεύνηση – Επέκταση

Ο Αντρέι με τους φίλους του αγόρασαν από μηχάνημα αυτόματης πώλησης προϊόντων τα είδη του παρακάτω πίνακα. Να υπολογίσεις την τιμή του κάθε είδους.

Προϊόντα	Ποσό στη μηχανή	Ρέστα
4 μπουκάλια νερού	5 €	3 €
3 μπάρες δημητριακών και 2 χυμοί πορτοκαλιού	5,50 €	25 λεπτά
1 χυμός πορτοκαλιού και 1 μπουκάλι νερού	2 €	0,3 €



		
Τιμή σε €		